





( )年( )組( )ばん

名前( )

1 いちごが12こあります。3人で同じ数ずつ分けようと考えます。

(1) 分け方が正しいのは、ア、イのどちらですか。



(2) 「1人分は何こになるか」を、式を書いて、答えをもとめましょう。

式：

\_\_\_\_\_

答え：

\_\_\_\_\_

2 クッキーが20こあります。4人で同じ数ずつ分けると、1人分は何こになりますか。式を書いて、答えをもとめましょう。



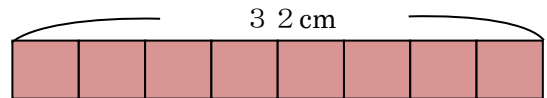
式：

\_\_\_\_\_

答え：

\_\_\_\_\_

3 32cmのリボンがあります。りくさんは、このリボンを同じ長さずつ8本に切りたいと考えました。



(1) リボン1本の長さは何cmになるか、式を書いて、答えをもとめましょう。

式：

\_\_\_\_\_

答え：

\_\_\_\_\_

(2) りくさんは、1本の長さが、もとの長さの□になると考えました。

□にあてはまる、正しい数はア、イ、ウのどれですか。

ア  $\frac{1}{2}$

イ  $\frac{1}{4}$

ウ  $\frac{1}{8}$







( ) 年 ( ) 組 ( ) ばん

名前 ( )

1 つぎ 次のわり算の計算をしましょう。

(1)  $8 \div 1 = \square$                       (2)  $4 \div 4 = \square$

(3)  $0 \div 3 = \square$                       (4)  $0 \div 9 = \square$

2 答えをもとめる式が、 $10 \div 2$ になるのはどれですか。   
 ①から④の中から、正しいものをすべて選んで答えましょう。

- ① おせんべいが10まいあります。2人で同じ数ずつ分けると、1人分は何まいになりますか。
- ② ふくろの中にあめが10こ入っています。このあめを2ふくろぜんぶ買うと、あめは全部で何こになりますか。
- ③ 10dLのジュースを、1人に2dLずつ分けると、何人に分けられますか。
- ④ 10本の花をたばにして花たばを作ります。2つの花たばを作るためには、花は何本あればよいでしょうか。

3 りこさんとめいさんは、3年1組の24人を、同じ人数ずつ、いくつかのグループに分けようと考えました。

りこさん：「6つのグループに分けると、1つのグループの人数は、  
 \_\_\_\_\_ で、4人となることが分かります。」

めいさん：「1つのグループの人数を3人とすると、 つのグループが作れます。」

りこさん：「5つのグループに分けることはできません。」



(1) \_\_\_\_\_ に入る式を答えましょう。 \_\_\_\_\_

(2)  に入る数を答えましょう。 \_\_\_\_\_

(3) 5つのグループに分けることができないのは、なぜでしょうか。