



模範解答

( )年( )組( )番  
名前( )

1 やまとさんの学級で、学級の人に、好きな動物を紙に書いてもらいました。問題をよく読み、つぎの問題に答えましょう。

パンダ ~~ライオン~~ パンダ 犬 ~~ねこ~~ ~~ライオン~~ ハムスター  
 犬 犬 ~~ライオン~~ ~~ライオン~~ パンダ ~~ねこ~~ 犬 ハムスター  
 パンダ 犬 パンダ ~~ライオン~~ ~~ねこ~~ 犬 パンダ 犬

(1) 「正」の字を使って、人数を調べ、右の表を完成させましょう。



正の字を使って、記録するとわかりやすいね!

ライオン(例)	正	5
パンダ	正一	6
ねこ	下	3
ハムスター	丁	2
犬	正丁	7

(2) グラフの1めもりは何人を表していますか。

答え

1人

(3) アの表題には何が入りますか。

答え

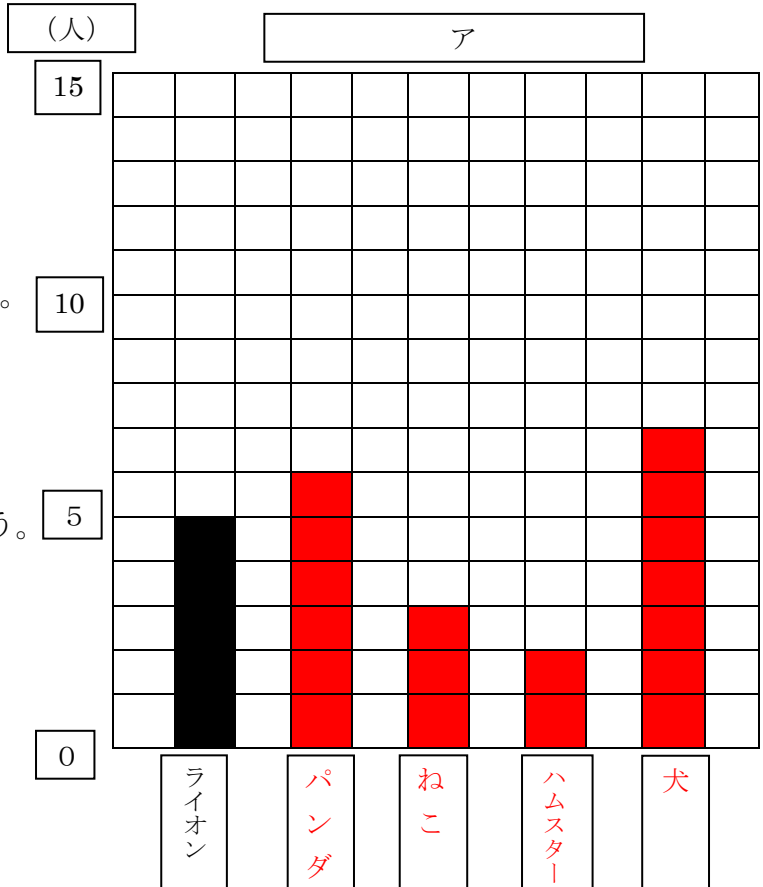
好きな動物しらべ

(4) 右のグラフを完成させましょう。

(5) 右のようなグラフを何グラフといいますか。

答え

ぼうグラフ





模範解答

( ) 年 ( ) 組 ( ) 番  
名前 ( )

1 みさきさんは、家の前を通ったのりもの数を調べた、下の表のようにまとめました。  
問題をよく読み、次の問題に答えましょう。

のりものしらべ

のりもの 台数 (台)	じょう用車	トラック	自転車	バイク	その他
	15	6	5	3	8

(1) 上の表をぼうグラフに表しましょう。

(2) 2番目に多く通ったのりものはなんですか。

答え

トラック

(3) じょう用車の台数は、自転車の人数の何倍ですか。

答え

3倍

(4) バイクの台数は、トラックの人数の何分の一ですか。

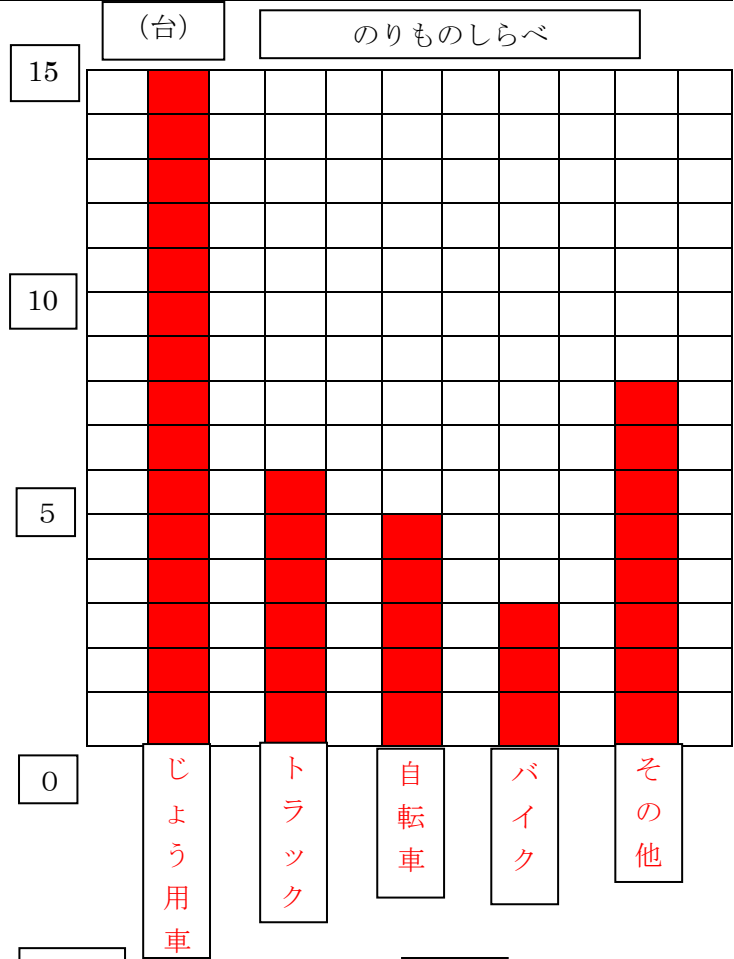
答え

2分の1

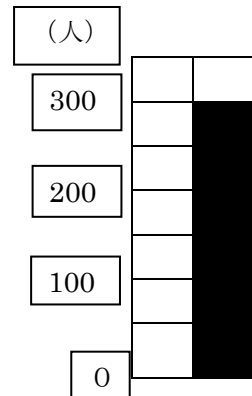
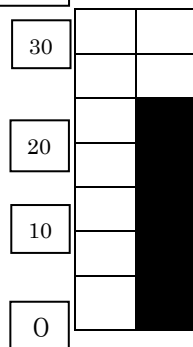
(5) みさきさんの家の前を通ったのりものは全部で何台ですか。

答え

37台



2 右のぼうグラフで1めもりが表している大きさとぼうが表している大きさを答えましょう。



(1) 1めもり 5台  
ぼうの大きさ 25台

(2) 1めもり 50人  
ぼうの大きさ 300人



模範解答

( )年( )組( )番  
名前( )

1 まみさんは図書室でかりられた本の数を調べ、下の表のようにまとめました。

3か月間でかりられた本

9月

しゅるい	さつ数
物語	17
伝記	12
図かん	7
その他	15

10月

しゅるい	さつ数
物語	28
伝記	24
図かん	12
その他	20

11月

しゅるい	さつ数
物語	23
伝記	19
図かん	9
その他	16

(1) 上の3つの表をもとに、次の表を完成させましょう。

エ

	9月	10月	11月	合計
物語	17	28	23	68
伝記	12	24	19	55 ←ア
図かん	7	12	9	28
その他	15	20	16	51
合計	51 ←イ	84	67	202 ←ウ

- (2) アの数は何を表していますか。 答え 3か月間でかりられた伝記の合計
- (3) イの数は何を表していますか。 答え 9月にかりられた本の合計
- (4) ウの数は何を表していますか。 答え 3か月でかりられた本の合計
- (5) エには何が入りますか。 答え 3か月でかりられた本の数