



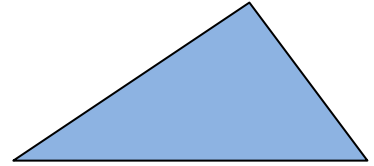
()年()組()ばん

名前()

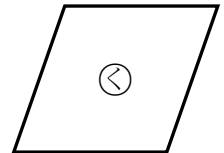
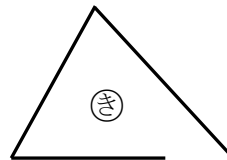
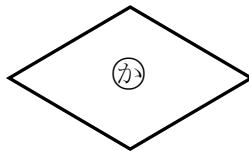
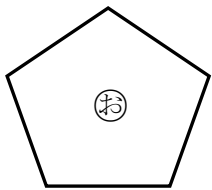
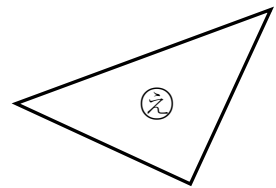
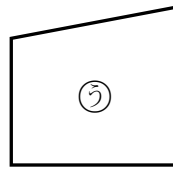
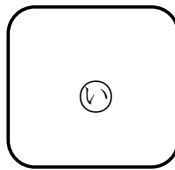
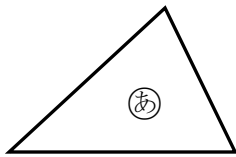
1 ^{さんかくけい} 三角形には、^{へん}へんや ^{てん}ちょう点がそれぞれいくつありますか。

へん

ちょう点



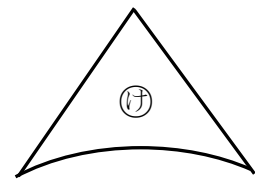
2 ㉠から ㉤の中から、^{さんかくけい}三角形と ^{しかくけい}四角形をえらびましょう。




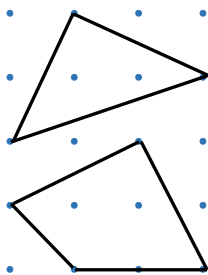
三角形

四角形

3 右の ㉥は、三角形ではありません。
その ^{わけ}わけを ^か書きましょう。



4 点と点を ^{ちよくせん}直線でむすんで、いろいろな三角形と四角形をかきましょう。

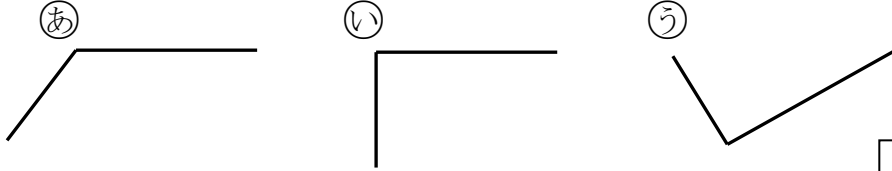




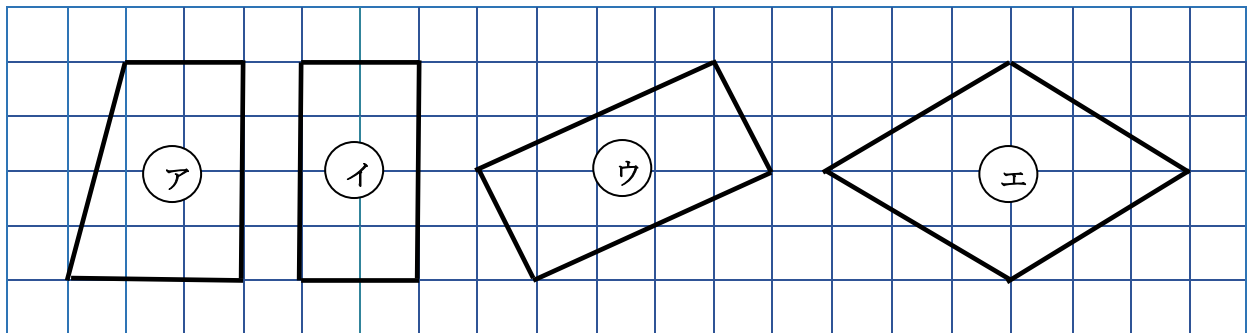
()年()組()ばん

名前()

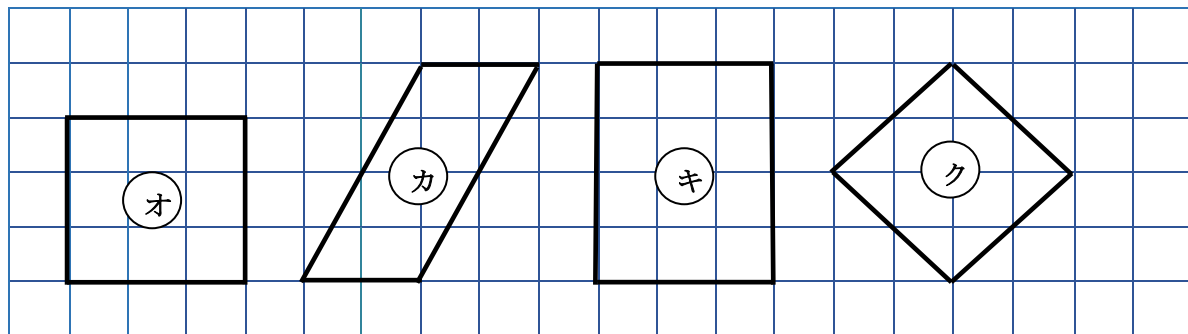
1 ^{かたち}かどの ^{ちよっかく}形が 直角に なって いる ものは どれですか。



2 ^{ちようほうけい}アから エの 中から 長方形を えらびましょう。

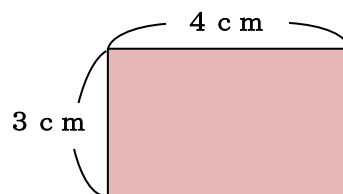


3 ^{せいほうけい}オから クの 中から 正方形を えらびましょう。



4 ^{しかくけい}右の 四角形は、長方形です。

この 長方形の まわりの ^{なが}なが ^{なん}ん 長さは 何 cm ですか。

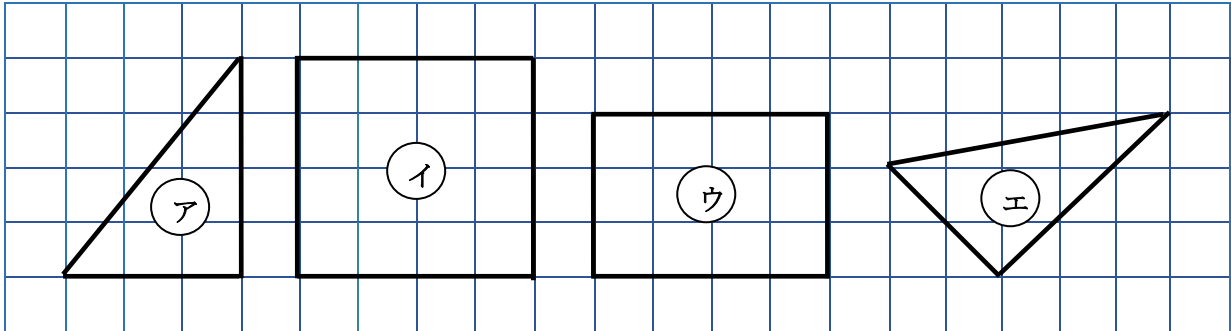




() 年 () 組 () ばん

名前 ()

1 つぎの さんかくけい 三角形や しかくけい 四角形の なまえ 名前を いいましょう。



A rectangular box for writing the name of shape A.


A rectangular box for writing the name of shape U.

A rectangular box for writing the name of shape I.

A rectangular box for writing the name of shape E.

2 はやとさんと ことねさんは 右の 四角形が せいほうけい 正方形か かんが どうかを かんが 考えて います。

□に か あてはまる ことば を か 書きましょう。



はやと

4つの かたち かの ちよっかく 形を しらべたら、
みんな ちよっかく 直角でした。
それだけで か 正方形と いえる のかな・・・



ことね

4つの かど が みな 直角で、4つの の なが 長さが
みんな おな 同じに な なっている 四角形が 正方形なので、
4つの の なが 長さを しらべれば よいです。

3 3cmの あいだ へんと 4cmの あいだ へんの
間に、直角の かど がある
ちよっかくさんかくけい 直角三角形を ほう 右の し 方がん紙に
かきましよう。

