



() ねん () くみ () ばん

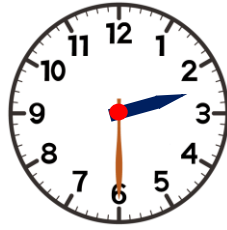
なまえ ()

1 とけいを よみましょう。

(1)



(2)

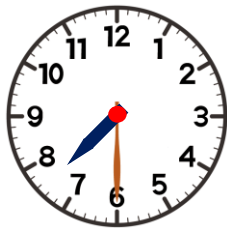


(3)



2 8じはんの とけいは どれですか。

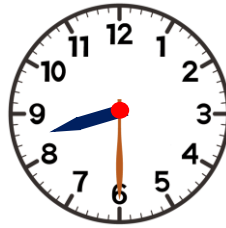
あ



い

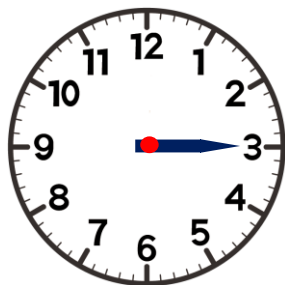


う

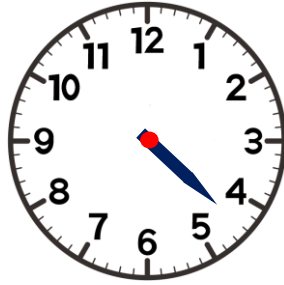


3 ながい はりを かきましょう。

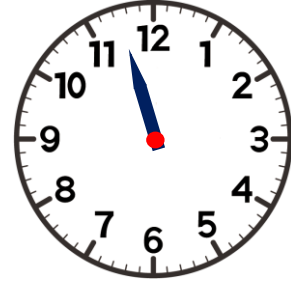
(1) 3じ



(2) 4じはん



(3) 11じはん



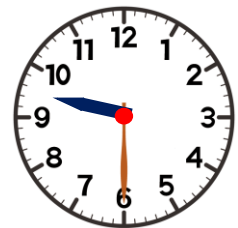
4 とけいを みて、□に はいる かずを かきましょう。

9じはんの とけい

みじかい はりは、□ と □ の

あいだに あります。

ながい はりは □ を さして います。



9じはん