



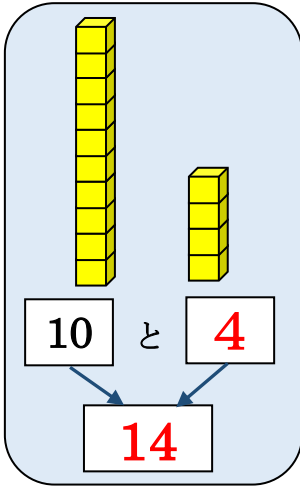
模範解答

() ねん () くみ () ばん

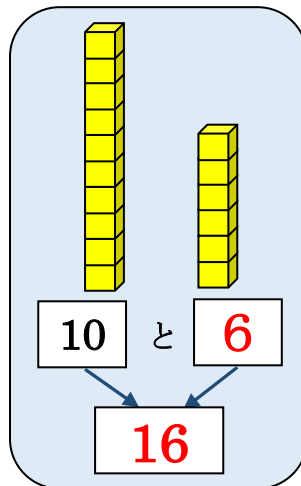
なまえ ()

1 □に はいる かずを かきましょう。

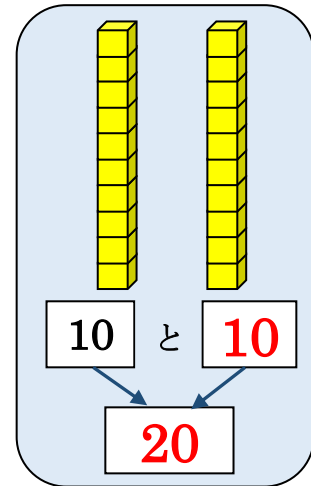
(1)



(2)



(3)




2 えをみて かずを こたえましょう。

(1)




12

(2)



20

(3)



16

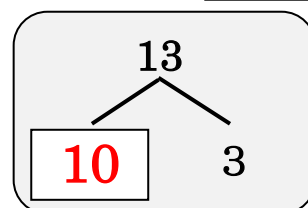
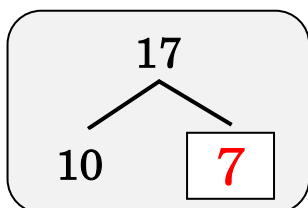
3 □に はいる かずを かきましょう。

(1) 17は 10と

7

(2) 13は 10と

3



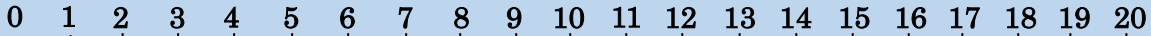


模範解答

() ねん () くみ () ばん

なまえ ()

かずのせん

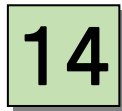


1 かずが おおきい ほうに ○を つけましょう。

(1)



(2)

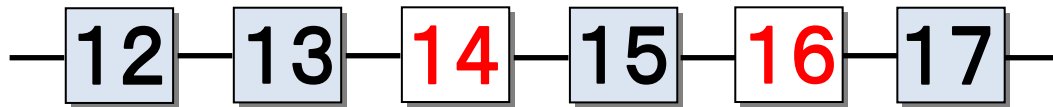


(3)

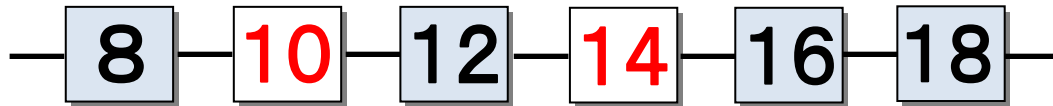


2 □に はいる かずを かきましょう。

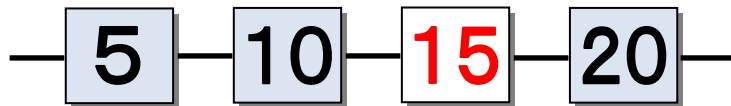
(1)



(2)



(3)



3 □に はいる かずを かきましょう。

(1) 11より 3 おおきい かずは 14 です。

(2) 20より 4 ちいさい かずは 16 です。

(3) 18は 12より 6 おおきい かず です。

(4) 9は 14より 5 ちいさい かず です。



模範解答

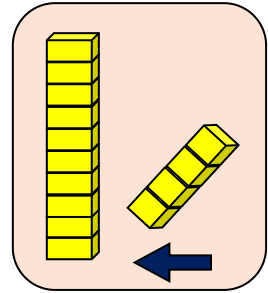
() ねん () くみ () ばん

なまえ ()

1 □に はいる かずを かきましょう。

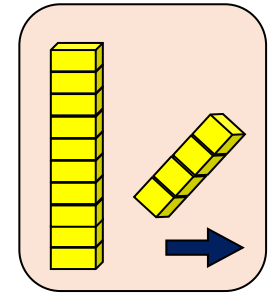
(1) 10に 4を たした かずは 14 です。

$$\text{しき } 10 + \boxed{4} = \boxed{14}$$



(2) 14から 4を ひいた かずは 10 です。

$$\text{しき } 14 - \boxed{4} = \boxed{10}$$



2 つぎの けいさんを しましょう。

(1) $10 + 6$

16

(2) $15 - 5$

10

(3) $13 + 2$

15

(4) $17 - 3$

14

3 こたえが おなじ かあど カードを せんで むすびましょう。

15 + 3

12 + 4

11 + 2

13 + 1


19 - 3

18 - 4


19 - 1

15 - 2


4 ぼうの かずを こたえましょう。



24



32



40