

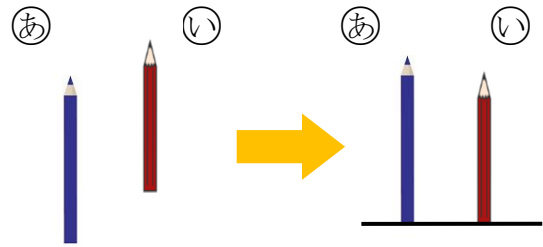


() ねん () くみ () ばん

なまえ ()

1 ①の えんぴつと ②の えんぴつの
ながさを くらべました。

(1) ①と ②の どちらが
ながいでしょうか。



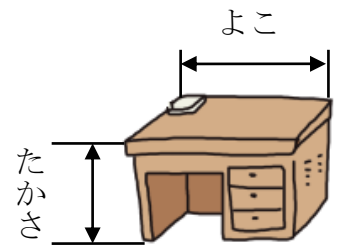
(2) どのように して くらべて いますか。

①、②、③の なかから 1つ えらんで こたえましょう。


- ① はしを そろえて くらべて いる。
- ② まっすぐに のぼして くらべて いる。
- ③ おって かさねて くらべて いる。

2 つくえの たかさと よこの ながさを くらべるのに
ただしい しらべかたを ㉠から ㉤の なかから
2つ えらんで こたえましょう。

- ㉠ はしを そろえて くらべる。
- ㉡ テープに うつしとって、ながさを くらべる。
- ㉢ おって かさねて くらべる。
- ㉣ ゆびを ひろげた ながさが、いくつぶん
なるかで くらべる。



3 いろいろな ものの ながさを テープに うつしとって くらべました。



(1) ロッカーの はばと すいそうの ふかさは、
どちらが ながいでしょうか。

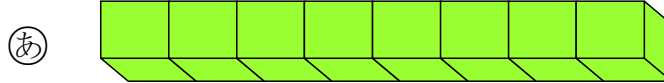
(2) いちばん ながいのは どれでしょうか。



() ねん () くみ () ばん

なまえ ()

1 ゆみさんは、**あ**と **い**の どちらが ながいかを せつめい しました。



(1) □に はいる かずを かきましよう。

(2) **あ**と **い**の どちらが ながいでしょうか。

(ゆみさんの せつめい)

あは、^{ぶろっく}ブロック つぶんの ながさです。

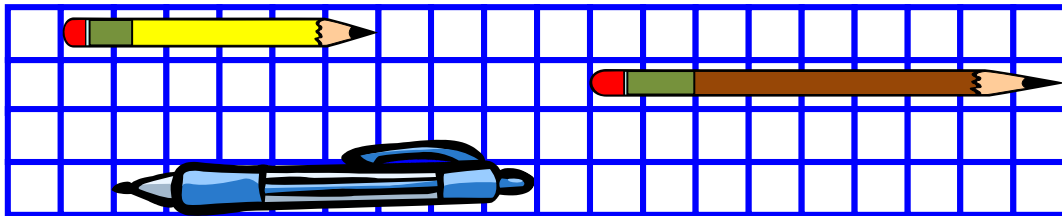
いは、ブロック つぶんの ながさです。

だから、 ? の ほうが ながいです。

こたえ

2 つぎの もんだいに こたえましよう。

あ



う

い

(1) **あ**、**い**、**う**は、 それぞれ ますの いくつぶんの ながさですか。

あ ますの つぶんの ながさ

い ますの つぶんの ながさ

う ますの つぶんの ながさ

(2) **あ**と **う**では、 どちらが どれだけ ながいですか。