





模範解答

() ねん () くみ () ばん
なまえ ()

1 えをみて、しきに かきましょう。

(1) 
 $1 + 2 = 3$

(2) 
 $2 + 3 = 5$

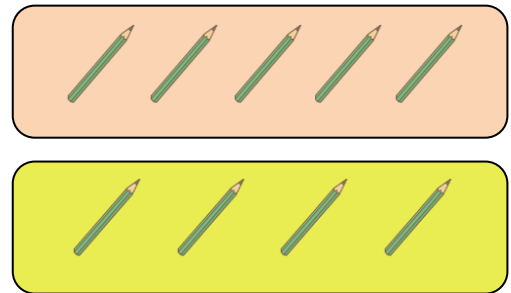
2 ねこが 3びきと 4ひき います。
 みんなで なんびきに なりますか。
 しきに かいて こたえましょう。



しき $3 + 4 = 7$

こたえ 7ひき

3 えんぴつが 5ほん と 4ほん あります。
 あわせて なんほんに なりますか。
 しきに かいて こたえましょう。



しき $5 + 4 = 9$

こたえ 9ほん

4 □の なかに はいる ことばを かきましょう。
 2 + 1 や 3 + 5 のような けいさんを、

たしざん

と います。



模範解答




() ねん () くみ () ばん
なまえ ()

1 □の なかに はいる かずを かきましょう。

(1) 4に 1を たすと、 **5** に なります。

(2) 2に 6を たすと、 **8** に なります。

2 えを みて、しきに かいて こたえましょう。



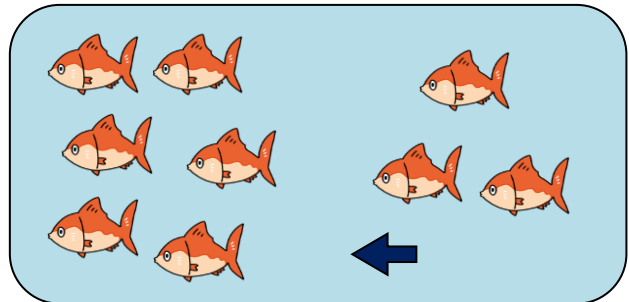
2わ います。 ➡ 5わ きました。

➡ みんなで
なんわに
なりましたか。

しき **2 + 5 = 7**

こたえ **7わ**

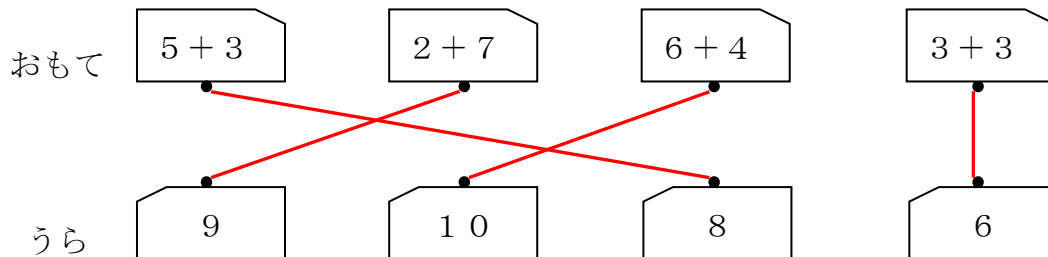
3 さかなが 6ひき います。
3ひき きました。
さかなは ぜんぶで
なんびきに なりましたか。
しきに かいて こたえましょう。



しき **6 + 3 = 9**

こたえ **9ひき**

4 おなじ かあどの おもてと うらを せんで むすびましょう。





模範解答

() ねん () くみ () ばん
 なまえ ()

1 たしざんを して、□の なかに はいる かずを かきましょう。

(1)	$3 + 1 =$	4	(2)	$5 + 2 =$	7
(3)	$6 + 3 =$	9	(4)	$4 + 5 =$	9
(5)	$2 + 8 =$	10	(6)	$7 + 0 =$	7

2 たまいを して、1かいめと 2かいめで
 あわせて なんこ 入れたかを けいさん しました。

しき 3 + 7



1かいめと 2かいめに、
 たまは どのように はいったのでしょうか。
 また、あわせて なんこ はいったのでしょうか。
 □の なかに はいる かずを かきましょう。

1かいめに **3** こ、2かいめに **7** こ はいった。
 あわせて **10** こ はいった。

3 5 + 4 の しきに なる たしざんの おはなしを つくりましょう。

(例)	い	ぬ	が		5	ひ	き	と		4	
	ひ	き		い	ま	す	。		み	ん	な
	で		9	ひ	き	に		な	り	ま	し
	た	。									

※ 5 + 4 のしきになる、おはなしをつくらなければ○