

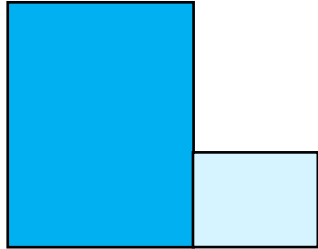


模範解答


() ねん () くみ () ばん

なまえ ()

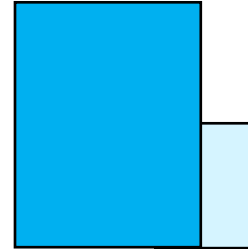
1 いろがよいしの ひろさを くらべます。くらべかたで よいものに ○を つけ ましょう。



()



(○)



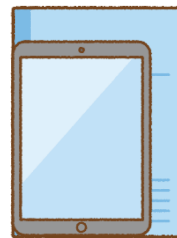

()

2 ㊦と ㊧では、どちらが ひろいでしょうか。

㊦




㊧





3 ㊨と ㊩では、どちらが ひろいでしょうか。

㊨




㊩





4 ㊪と ㊫では、どちらが ひろいでしょうか。

㊪



㊫




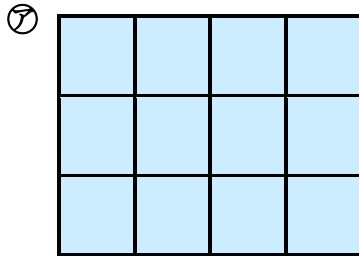


模範解答

() ねん () くみ () ばん

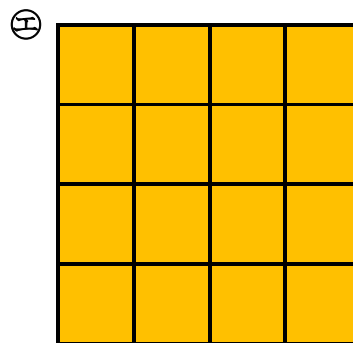
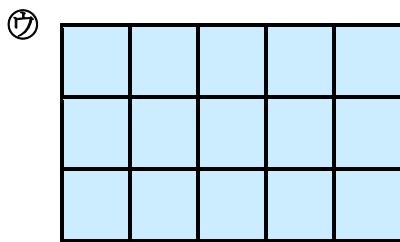
なまえ ()

1 アと ①では どちらが ひろいでしょうか。



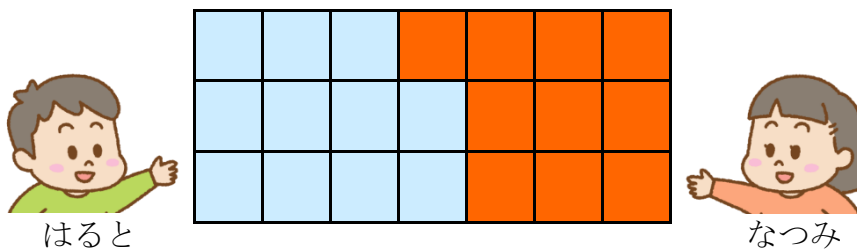
ア

2 ウと ⑤では どちらが ひろいでしょうか。



エ

3 はるとさんと なつみさんが じんとり あそびを しました。 じゃんけんで かったら、1ます めります。 □に はいる かずや ことばを かきましょう。



はるとさんは **11** ますぶん、 なつみさんは **10** ますぶん です。

ひろさを くらべると、 **はると** さんの ほうが、 **1** ますぶん

ひろいです。