

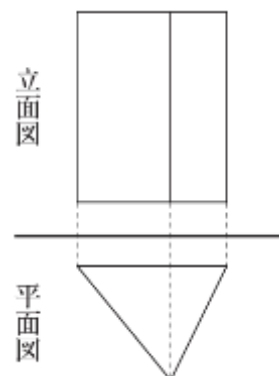
復習シート 第2学年 数学




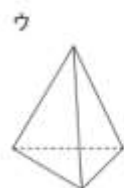
| | | | | | |
|---|--|----|--|----|--|
| 組 | | 番号 | | 名前 | |
|---|--|----|--|----|--|

(「図形」を問う問題)

- 1 右の図は、ある立体の投影図で、正面から見た図(立面図)と真上から見た図(平面図)で表したものです。この立体の見取図が下のアからオまでの中にあります。正しいものを1つ選びなさい。



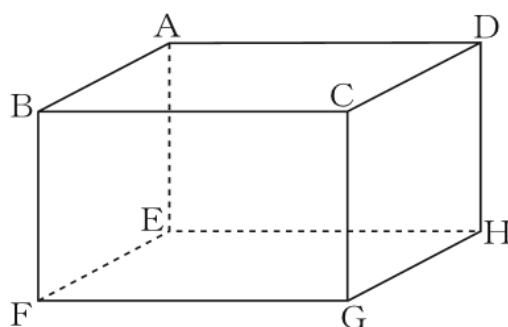
レベル6



答え

- 2 右の図のような直方体があります。辺BFとねじれの位置にある辺を、4つすべて答えなさい。

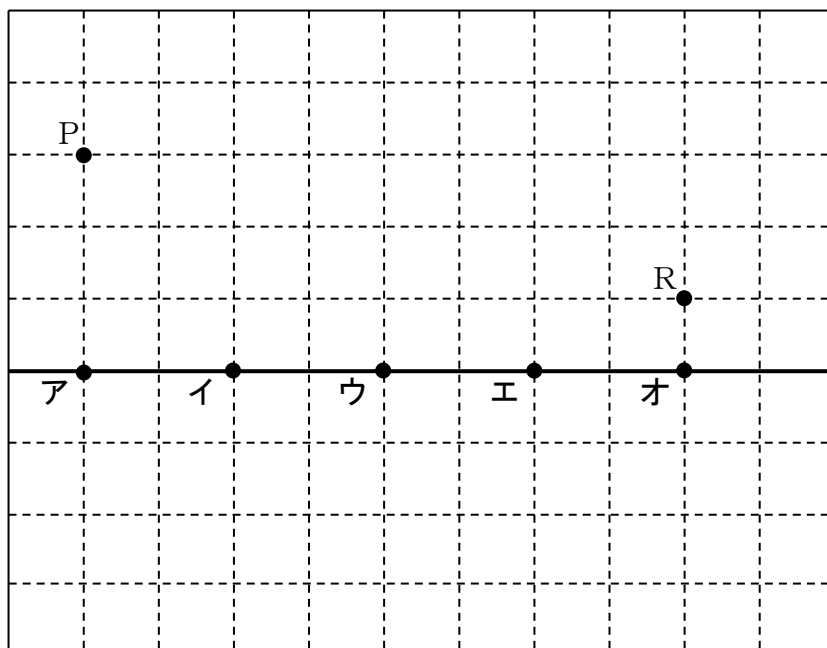
レベル8



答え

- 3 次の図で、点Pを出発し直線 ℓ 上の点Qを通過して点Rまで移動するとき、 $PQ + QR$ がもっとも短くなる点Qの位置を、図の**ア**から**オ**の中から1つ選びなさい。

レベル10



直線 ℓ

答え

