

埼玉県学力・学習状況調査（小学校）

復習シート 第5学年 算数

埼玉県学力・学習状況調査

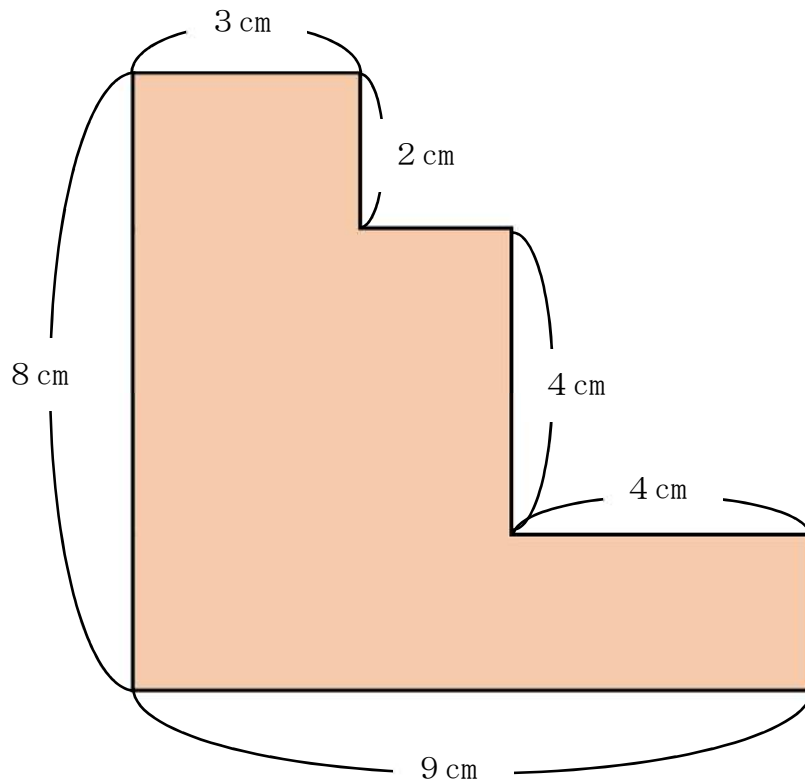


組		番号		名前	
---	--	----	--	----	--

（「図形」を問う問題）

- 1 下の図は、長方形を組み合わせたものです。色をぬった部分の面積を求めましょう。

レベル7



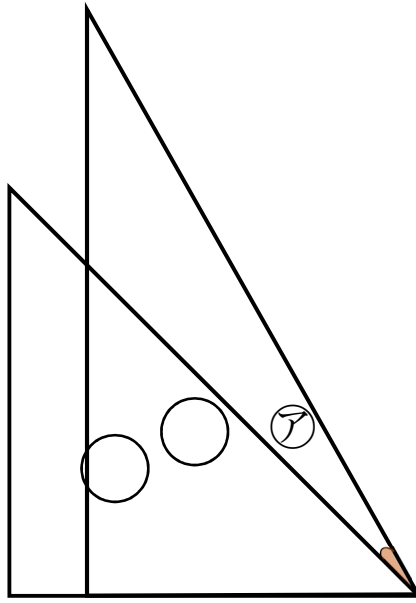
答え

cm^2

2 下の図は、1組の三角じょうぎを組み合わせたものです。

レベル7

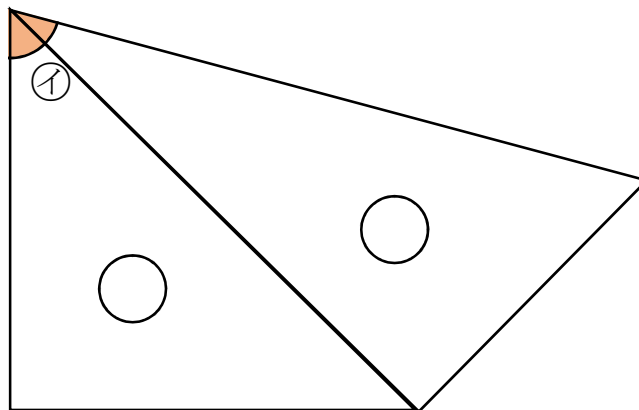
(1) ㉞の角度を求めましょう。



答え

。

(2) ㉟の角度を求めましょう。



答え

。