

埼玉県学力・学習状況調査（小学校）

復習シート 第4学年 算数

埼玉県学力・学習状況調査

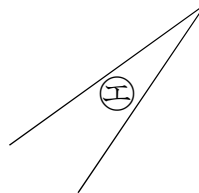
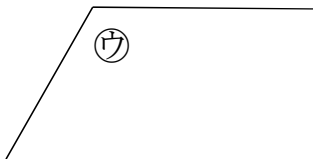
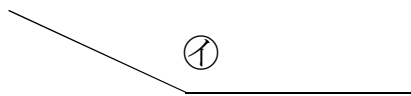
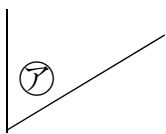


組		番号		名前	
---	--	----	--	----	--

（「図形」を問う問題）

1 下の㉗から㉘の角の大きさをくらべて、大きいじゅんにかきましょう。

レベル 3

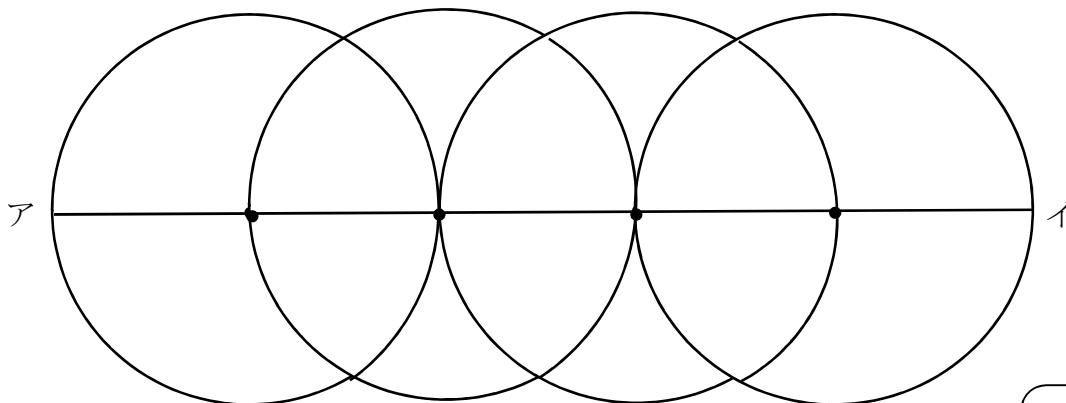


答え



2 次の図のように、半径5 cmの円を、円のまわりがとなりの円の中心を通るように4こかきました。直線アイの長さは何 cmですか。

レベル 6



答え

cm