

埼玉県学力・学習状況調査（小学校）

復習シート 第4学年 算数

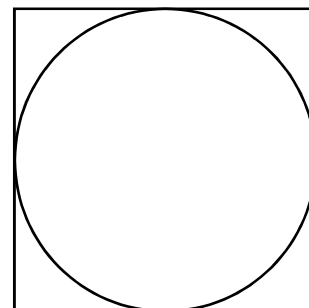
埼玉県学力・学習状況調査



| | | | | | |
|---|--|----|--|----|--|
| 組 | | 番号 | | 名前 | |
|---|--|----|--|----|--|

（「図形」を問う問題）

- 1 右の図アのような、正方形の中にぴったり入る円をかきました。円の半径は、4 cmです。このとき、正方形のまわりの長さをもとめましょう。

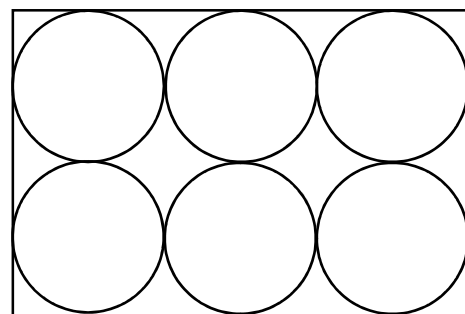


図ア

レベル5

答え

- 2 下の図イのように、長方形の紙に、直径が全て5 cmの円が6つ入っています。この長方形のまわりの長さをもとめましょう。

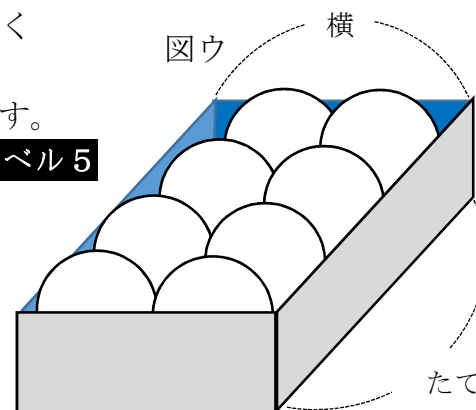


図イ

レベル5

答え

- 3 右の図ウのような、同じ大きさのボールが、すき間なく入っている箱があります。この箱のたての長さは24 cmで、横の長さは12 cmです。



図ウ

レベル5

- (1) 横の長さから、ボールの半径をもとめましょう。
 (2) たての長さから、ボールの半径をもとめましょう。

(1) 式や考え方

(1) 答え

(2) 式や考え方

(2) 答え

埼玉県学力・学習状況調査

