

埼玉県学力・学習状況調査 (小学校)

復習シート 第4学年 算数



組		番 号		名 前	
---	--	--------	--	--------	--

(「数と計算」を問う問題)

1 次の計算をしましょう。

レベル5

(1) 207×57

(2) $7 - 1.6$

答え

答え

2 次の□にあてはまる数を次のアからエの中から1つ選びましょう。

レベル3～5

(1) $7400 = 8000 - \square$

ア 60

イ 400

ウ 600

エ 1000

答え

(2) 0.1を104個あつめた数は \square

ア 1.4

イ 10.4

ウ 104

エ 1040

答え

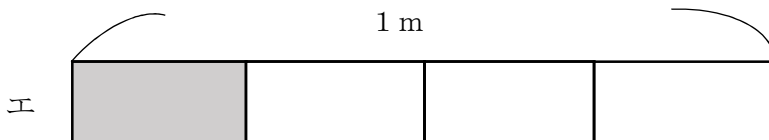
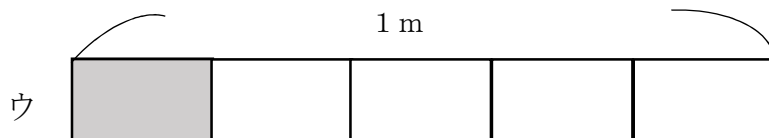
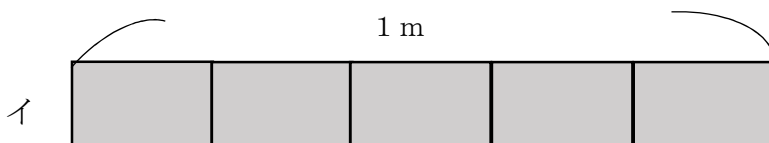
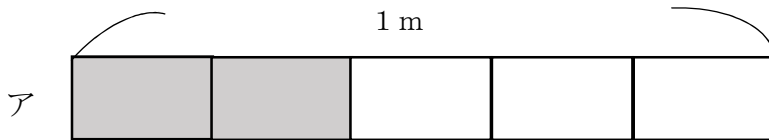
3 次の問題に答えましょう。

レベル4・5

- (1) 10個で940円のえんぴつがあります。このえんぴつ1本のねだんは何円ですか。答えを書きましょう。

答え

- (2) リボンを $\frac{1}{5}$ m使います。リボンの長さとして、正しいものを次のアからエの中から1つえらびましょう。



答え

埼玉県学力・学習状況調査（小学校）

復習シート 第4学年 算数

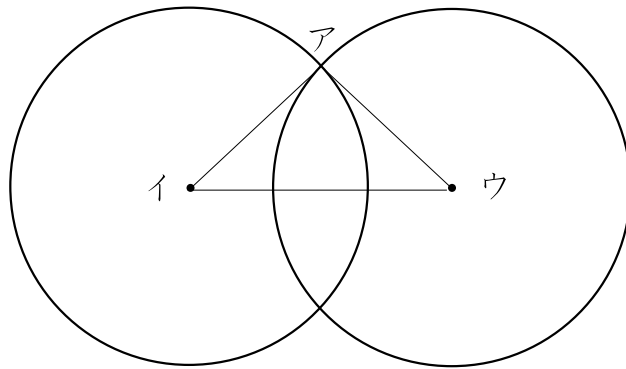


組		番 号		名 前	
---	--	--------	--	--------	--

（「図形」を問う問題）

- 1 次のように、半径が3 cmの2つの円があります。

レベル5・6



- (1) この円を使ってかいた三角形アイウの名前を書きましょう。

答え

- (2) その三角形になるわけを次の1から4の中から選んで、その番号を書きましょう。

- 1 円の直径の長さは、半径の長さの2倍の長さだから
- 2 2つの円の半径の長さが3 cmなので三角形アイウの辺の長さはすべて等しいから
- 3 2つの円の半径の長さが3 cmなので、辺アイと辺アウは等しいから
- 4 2つの円の半径の長さが3 cmなので、辺アイと辺イウは等しいから

答え

埼玉県学力・学習状況調査（小学校）

復習シート 第4学年 算数



組		番 号		名 前	
---	--	--------	--	--------	--

（「測定」を問う問題）

1 次の問題を解きなさい。

レベル4

(1) 重さが1 kgに近いものを、次のアからエの中から1つえらびましょう。

- ア ドッジボール
- イ からっぽのランドセル
- ウ 1円玉100まい
- エ 水がいっぱいに入ったバケツ

答え

(2) 1 kgは1 gのいくつ分か、次のアからエの中から1つえらびましょう。

- ア 10こ分
- イ 100こ分
- ウ 1000こ分
- エ 10000こ分

答え

(3) 1 kmは1 mのいくつ分か、次のアからエの中から1つえらびましょう。

- ア 10こ分
- イ 100こ分
- ウ 1000こ分
- エ 10000こ分

答え

(4) 1 kgや1 kmにはk（キロ）がついています。g（グラム）やm（メートル）の前についているk（キロ）にはどんな意味があるだろうか、次のアからエの中から1つえらびましょう。

- ア 10倍
- イ 100倍
- ウ 1000倍
- エ 10000倍

答え



埼玉県学力・学習状況調査 (小学校)

復習シート 第4学年 算数



組		番 号		名 前	
---	--	--------	--	--------	--

(「データの活用」を問う問題)

1 下の表は、4年生の好きな遊び調べの人数を表したものです。

レベル5・6

4年生全体の好きな遊び

しゅるい \ 組	1組	2組	3組	合計
おにごっこ	13	15	6	34
ドッジボール	10	㊶	12	27
なわとび	7	8	10	㊷
その他	2	3	3	8
合計	㊸	31	31	㊹

(1) 上の表の㊶～㊹にあてはまる数を書き、表をかんせいさせましょう。

(2) 上の表の㊶～㊹に入る数は、それぞれ何を表していますか。

㊶

㊷

㊸

㊹