

復習シート 第4学年 算数



| | | | | | | |
|---|--|----|--|----|--|-------------|
| 組 | | 番号 | | 名前 | | 模範解答 |
|---|--|----|--|----|--|-------------|

（「数と計算」を問う問題）

1 次の計算をしましょう。

(1) $0 \div 7$

レベル2

0を0でないどんな数でわっても、答えはいつも0。

答え

0

(2) $27 - 1.7$

レベル6

筆算は位をそろえて書く。

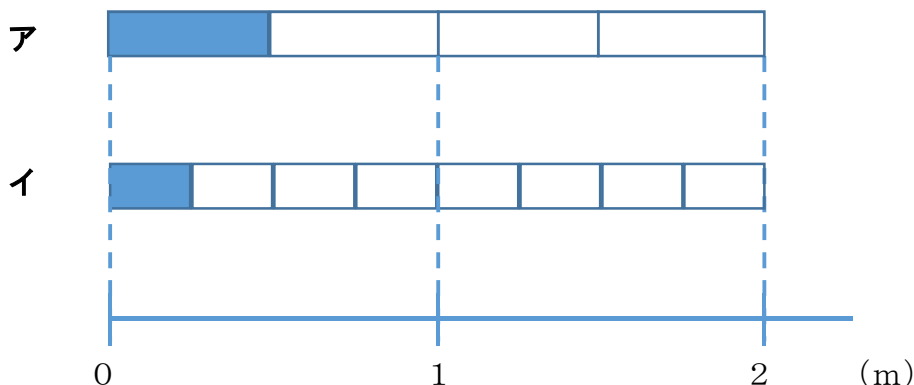
$$\begin{array}{r} 27 \\ - 1.7 \\ \hline 25.3 \end{array}$$

答え

25.3

2 $\frac{1}{4}$ mの長さを表しているものは、次のア、イのどちらですか。

レベル7



$\frac{1}{4}$ mは、1mをもとの長さとし、4等分した1こ分の長さ。

答え

イ

3 240 cmのリボンを10 cmずつ切ります。10 cmのリボンは何本できますか。

レベル5

240 cmのリボンを10 cmずつ分けていくことになるので、
 $240 \div 10 = 24$
 一の位が0の数を10でわると、位が1つずつ下がり、一の位の0をとった数になる。

答え

24本

4 次の問題に答えましょう。

(1) 380000は1万を何こ集めた数ですか。

レベル5


10万は1万が10こだから、30万は1万が30こ。
 8万は1万が8こ。

答え

38こ

(2) , にあてはまる数を書きましょう。

レベル2



2つ分のめもりで、
 $9000万 - 7000万 = 2000万$
 増えているので、1めもりの大きさは
 1000万。
 1000万が10こで1億。

答え①

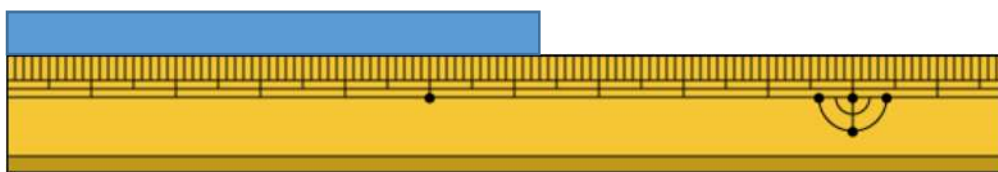
8000万

答え②

1億

(3) 下のテープは、何cmですか。小数で答えましょう。

レベル5



1 mm は、1 cm を10等分した長さ。

↓

1 mm = 0.1 cm

答え

6.3 cm



- 5 1箱におかしが7こ入る箱がいくつかあります。50このおかしをその箱につめて入れたところ、1このおかしが残りしました。箱は何箱あったでしょう。

レベル4

$50 - 1 = 49$ ← 箱につめたおかしの数

$49 \div 7 = 7$ ← 箱の数

答え

7箱

- 6 下の問題を、答えを「 $15 + 3$ 」「 $15 - 3$ 」「 15×3 」「 $15 \div 3$ 」で求める問題に分け、問題の記号を書きましょう。

レベル4

ア あめが15こあります。友だちに3こあげると、あめは何こになるでしょう。

イ 3人の友だちに、あめを15こずつ分けました。あめは全部で何こですか。

ウ あめが15こあります。3人で同じ数ずつ分けると、一人分は何こになりますか。

エ お父さんの年れいは、15才のたかし君の3倍です。お父さんは何才ですか。

オ 15才のたかし君には、3つ年上のお姉さんがいます。お姉さんは何才ですか。

カ 15才のたかし君は、弟の年れいの3倍です。弟は何才ですか。

15 + 3で求める問題

オ

15 - 3で求める問題

ア

15 × 3で求める問題

イ, エ

15 ÷ 3で求める問題

ウ, カ

