

復習シート 第4学年 算数

埼玉県学力学習状況調査



コハトン

組		番号		名前	
---	--	----	--	----	--

（「図形」を問う問題）

- 1 次のアからエの中で、正三角形を1つえらびましょう。 **レベル2・3**

- ア 辺の長さが4 cm, 4 cm, 4 cmの三角形
 イ 辺の長さが4 cm, 5 cm, 6 cmの三角形
 ウ 辺の長さが5 cm, 5 cm, 3 cmの三角形
 エ 辺の長さが5 cm, 6 cm, 6 cmの三角形

答え

- 2 下のアからウの角の大きさをくらべて、大きいじゅんにかきましょう。 **レベル3**

答え


→ →

ア

ウ

イ

埼玉県学力学習状況調査



コハトン

復習シート 第4学年 算数

埼玉県学力学習状況調査



コハクン

組		番号	名前	模範解答

（「図形」を問う問題）

- 1 次のアからエの中で、正三角形を1つえらびましょう。 レベル2・3

- ア 辺の長さが4 cm, 4 cm, 4 cmの三角形
 イ 辺の長さが4 cm, 5 cm, 6 cmの三角形
 ウ 辺の長さが5 cm, 5 cm, 3 cmの三角形
 エ 辺の長さが5 cm, 6 cm, 6 cmの三角形

答え

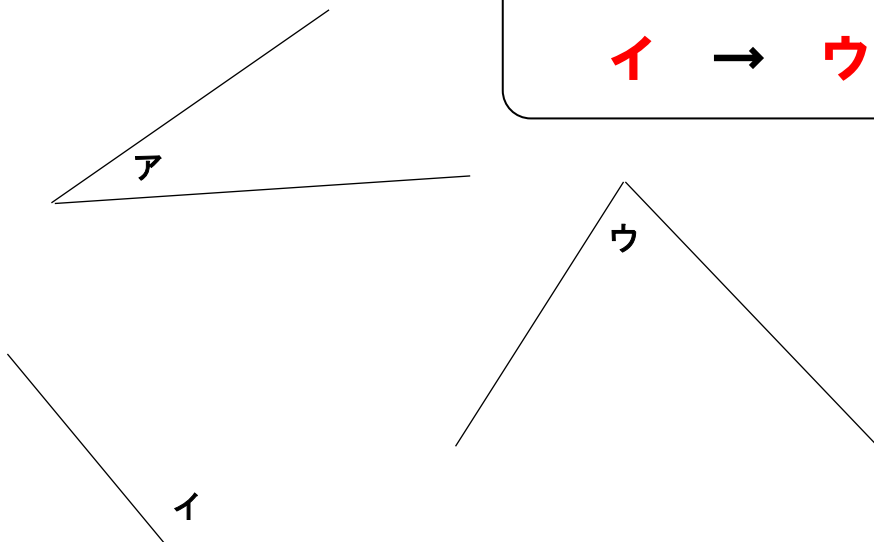
ア

イは、3辺とも長さのちがう三角形
 ウ・エは二等辺三角形
 アは3辺すべて長さが等しい三角形で、これが正三角形

- 2 下のアからウの角の大きさをくらべて、大きいじゅんにかきましょう。 レベル3


答え

イ → ウ → ア



イは、90°よりも大きい角
 アとウは90°より小さいが、見比べてウの角の方が大きいことが分かる。

埼玉県学力学習状況調査



コハクン