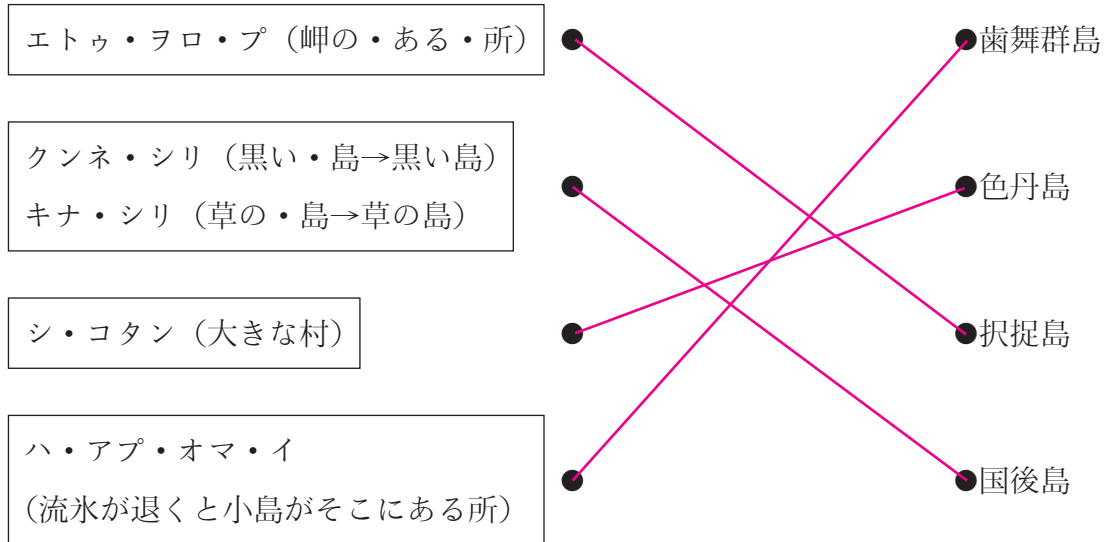


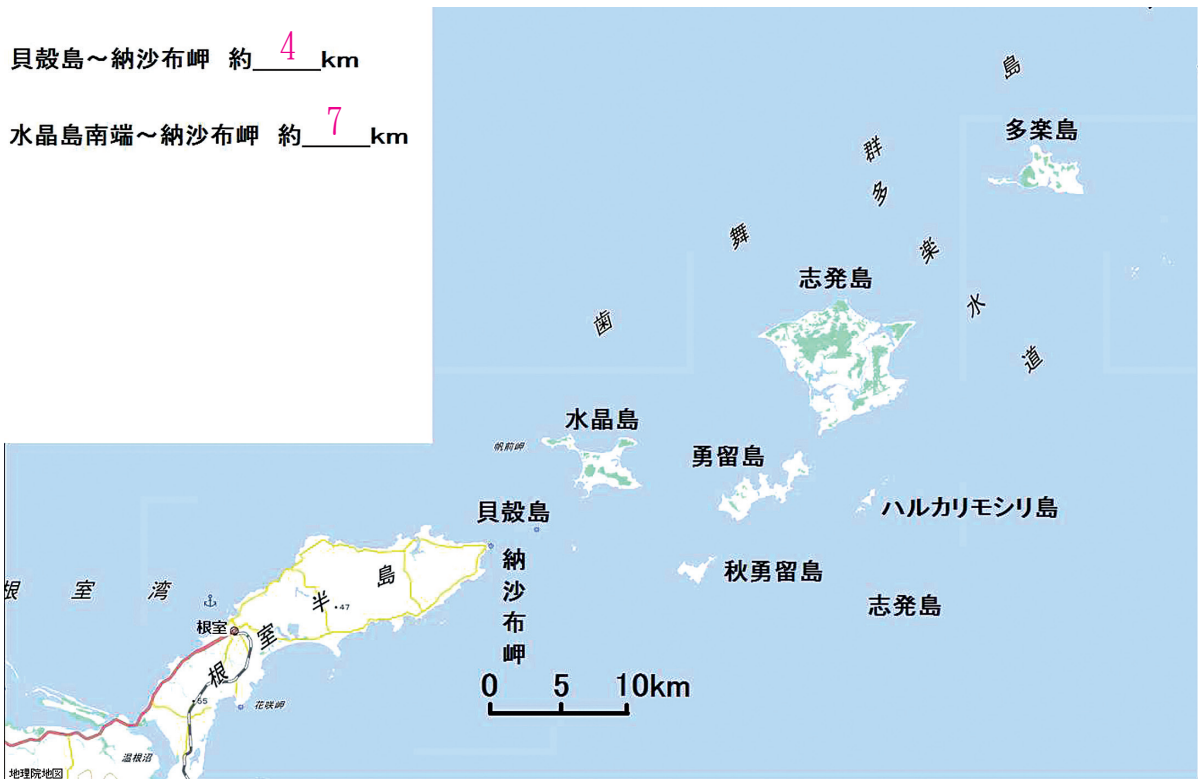


(2) わが国固有の領土である北方領土の島々の名前は、アイヌ語に由来していると言われています。関連することがらを線で結びなさい。



(3) 北方領土の中でも歯舞群島は、最も日本本土に近い島々です。地図中の水晶島の南端及び貝殻島と納沙布岬との間の、およその距離を測ってみよう。

貝殻島～納沙布岬 約 4 km  
 水晶島南端～納沙布岬 約 7 km

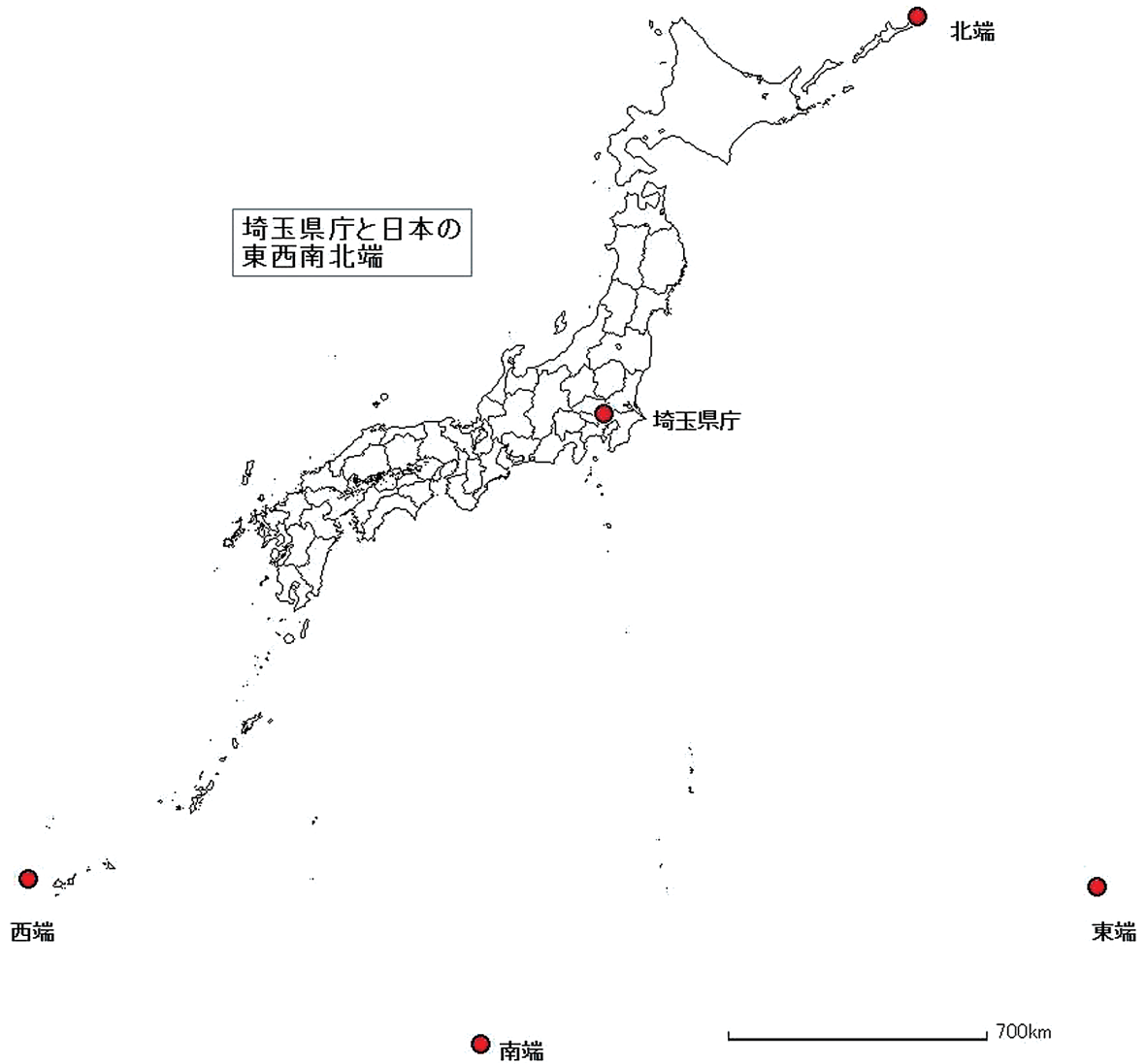


# 北方領土ワークシート②

小学校

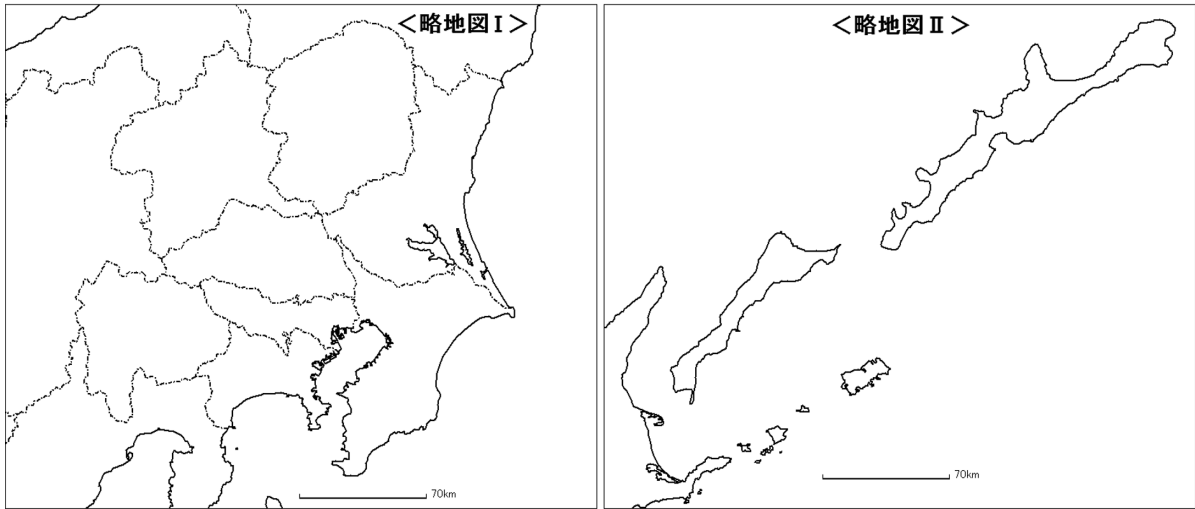
年 組 番 氏名 **解答**

- 1 略地図をもとに、埼玉県庁と日本の東西南北端までの距離を、コンパスを使って比べ、近い順に番号を付けなさい。



|    | 西端（与那国島） | 南端（沖ノ鳥島） | 東端（南鳥島） | 北端（択捉島） |
|----|----------|----------|---------|---------|
| 順位 | 4        | 2        | 3       | 1       |

2 略地図Ⅰと略地図Ⅱ及び表1を参考にして、関東地方の各都県と北方領土の島々の広さを比べてみよう。



(1) 地図帳を見て、関東地方の各都県の面積を調べ、北方領土の合計面積より大きい都県に○、小さい都県に△を書きなさい。

| 都 県 | 面 積                   | 比較 (○、△) |
|-----|-----------------------|----------|
| 茨 城 | 6,097 km <sup>2</sup> | ○        |
| 栃 木 | 6,408 km <sup>2</sup> | ○        |
| 群 馬 | 6,362 km <sup>2</sup> | ○        |
| 埼 玉 | 3,798 km <sup>2</sup> | △        |
| 千 葉 | 5,158 km <sup>2</sup> | ○        |
| 東 京 | 2,191 km <sup>2</sup> | △        |
| 神奈川 | 2,416 km <sup>2</sup> | △        |

表1 北方領土の島々の面積

| 島 名  | 面 積                   |
|------|-----------------------|
| 歯舞群島 | 95 km <sup>2</sup>    |
| 色丹島  | 251 km <sup>2</sup>   |
| 国後島  | 1,490 km <sup>2</sup> |
| 択捉島  | 3,168 km <sup>2</sup> |
| 合 計  | 5,003 km <sup>2</sup> |

(2) あなたの町と北方領土の島々を比べてみよう。

|      |                     |
|------|---------------------|
| 市町村名 | 例) 飯能市              |
| 面 積  | 193 km <sup>2</sup> |