

中学校

北方領土ワークシート①

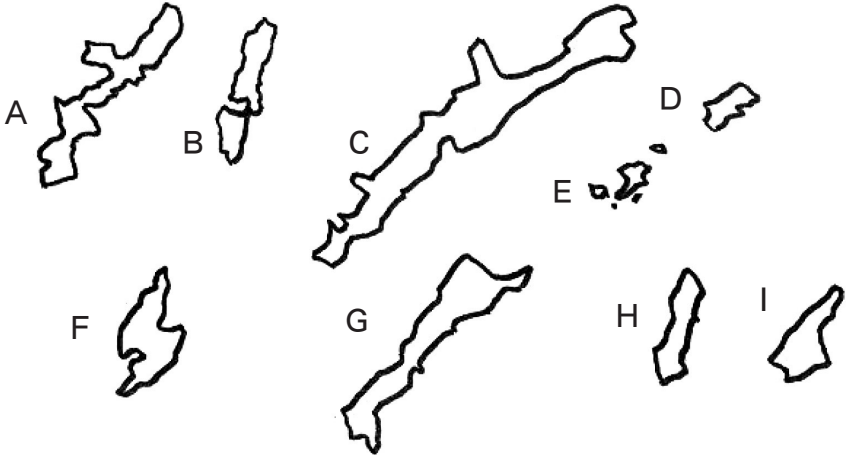
年 組 番 氏名 解答

○北方領土について知る

北海道にある択捉島と国後島、色丹島、歯舞群島を含めて4島は、ロシア連邦との領土問題が未解決の地域で「北方領土」といいます。

1 次の白地図は、日本の主な島々と北方領土の島々です。
 (1) 島の名前を書きなさい。

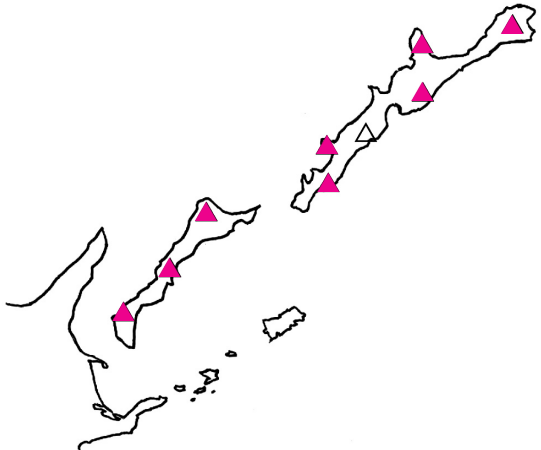
- <選択肢>
- 淡路島
 - 種子島
 - 歯舞群島
 - 佐渡島
 - 国後島
 - 沖縄島
 - 色丹島
 - 対馬
 - 択捉島



A 沖縄島	B 対馬	C 択捉島	D 色丹島	E 歯舞群島
F 佐渡島	G 国後島	H 種子島	I 淡路島	

2 北方領土と埼玉県の山を比較してみましょう。 ※地図帳を見て作業しよう！

(1) 埼玉県と択捉島・国後島で最も標高の高い山はどこだろうか？



	山の名前	標高 (m)
埼玉県	三宝山	2,483 m
択捉島	西単冠山	1,629 m
国後島	爺爺岳	1,772 m

(2) 北方領土にある山の中で火山のものを赤くぬりましょう。

今日の作業をして気づいたことを書こう！

北方領土ワークシート②

中学校

年 組 番 氏名

解答

○北方領土の位置や埼玉県との関係について知る

※地図帳を見て作業しよう！



(1) 北方領土の地域を地図の中に○で囲みましょう。

(2) 北方領土とほぼ同じ緯度の世界の都市を3都市探して書きましょう。

「 ハルビン 」

「 オタワ 」

「 ブカレスト 」

(3) 北方領土とほぼ同じ経度の世界の都市を3都市探して書きましょう。

「 ポートモレスビー 」

「 キャンベラ 」

「 メルボルン 」

(4) 埼玉県の県庁と北方領土は、どのくらいの距離あるのか。上の地図を参考に調べてみよう。 およそ (1,300) Km

(5) 以下の文章は、北方領土と埼玉県の関係を示した文章です。()の中に最もよく当てはまる語句を書きなさい。

埼玉県は海のない県で、およそ1,000Kmも離れている北方領土とは、まったく縁がないと思われがちですが、太平洋から(利根)川を利用した船での交易は、江戸時代からさかんに行われていました。北海道や北方領土でとれた(さけ)や(ます)が、塩漬けにされ、埼玉県へ船で運ばれてきました。

深谷市で海産物を商っていた永徳屋商店は、大正から昭和初期にかけて、北海道や北方領土の海産物を大量に仕入れて中部地方から関東地方、東北地方まで広く売りさばっていました。

主な海産物は、(さけ)や(ます)を新巻にしたものですが、そのほかに、みがき(にしん)や酢だこなども扱いました。

今日の作業をして気づいたことを書こう！

<h1 style="margin: 0;">北方領土ワークシート③</h1>	中学校 _____
_____年 組 _____番 氏名	解答

○北方領土の人口や学校について知る

1 次の表や地図をもとに作業しましょう。

【終戦時の元居住者数】

- (1) 終戦時の北方領土に住んでいた人の数を求めましょう。
- (2) 埼玉県とあなたの住んでいる市町村の人口を調べましょう。

島名	人口(人)
択捉島	3,608
国後島	7,364
色丹島	1,038
歯舞群島	5,281

※ 出典「北方領土」北方領土問題対策協会

	終戦時の北方領土	埼玉県	あなたの市町村 (飯能市)
人口	17,291人	約732万人	約8万人

2 終戦時に北方領土にあった学校の数について、島ごとに「☆」を地図中に記入しましょう。

島名	学校数
国後島	15
択捉島	12
色丹島	5
志発島	2
多楽島	1
水晶島	2
勇留島	1
秋勇留島	1

(※学校…国民学校、特別教授場、分教場など)

~~~~ 今日の作業をして気づいたことを書こう！ ~~~~~

中学校

# 北方領土ワークシート④

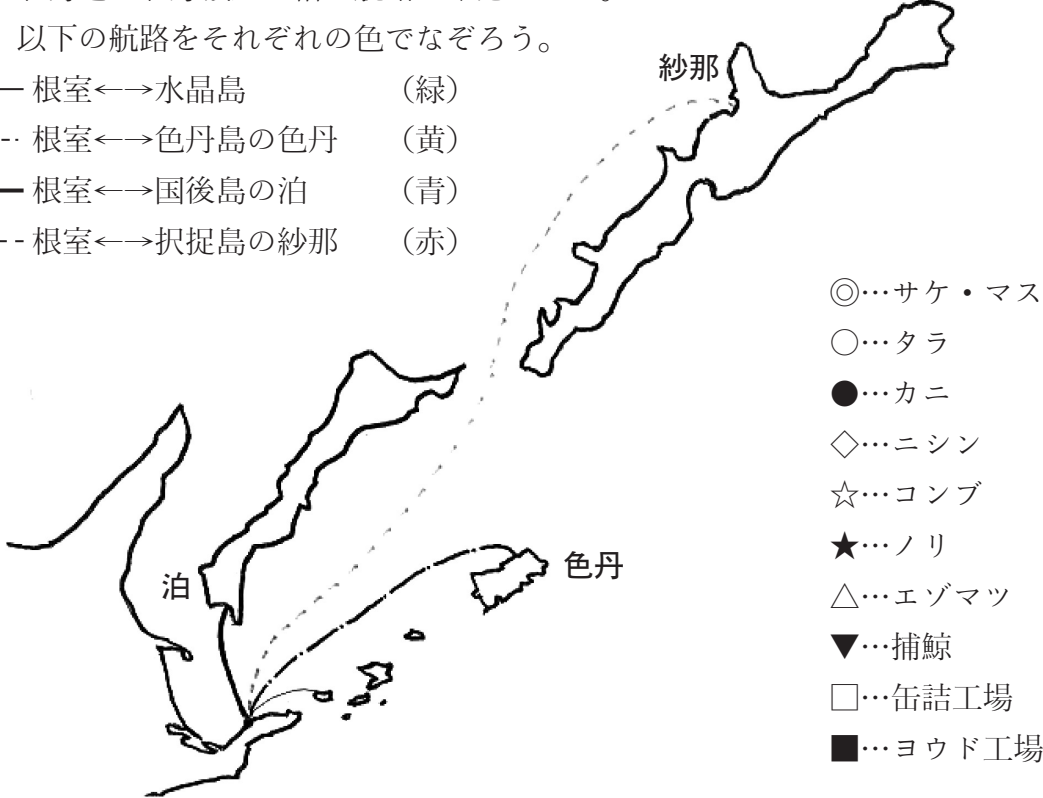
年 組 番 氏名 解答

○北方領土の産業や交通を学ぼう

(1) 北海道と北方領土を結ぶ航路を確認しよう。

以下の航路をそれぞれの色でなぞろう。

- 根室←→水晶島 (緑)
- 根室←→色丹島の色丹 (黄)
- 根室←→国後島の泊 (青)
- 根室←→択捉島の紗那 (赤)



(2) 北方領土の産業を調べてみよう。

以下の表を見て、各島の主な産業を地図中に示そう。

|     | 国後島                 | 択捉島                    | 色丹島          | 歯舞群島                |
|-----|---------------------|------------------------|--------------|---------------------|
| 水産業 | サケ・マス、タラ、ニシン、カニ、コンブ | サケ・マス、タラ、ノリ、コンブ、カニ、捕鯨  | タラ、ノリ、コンブ、捕鯨 | コンブ、ノリ、フノリ、タラ、サケ・マス |
| 林業  | エゾマツ、トドマツ           | エゾマツ、トドマツ、ナラ、シラカバ、ハンノキ |              |                     |
| 工業  | 缶詰工場、冶金製錬工場、製材所     | 缶詰製造、ヨウド工場、硫黄精錬工場、製材所  | 缶詰工場         | 缶詰工場、ヨウド工場          |
| 鉱業  | 金、銀、硫黄、硫化鉄          | 金、銀、硫黄                 |              |                     |

~~~~ 今日の作業をして気づいたことを書こう！ ~~~~~

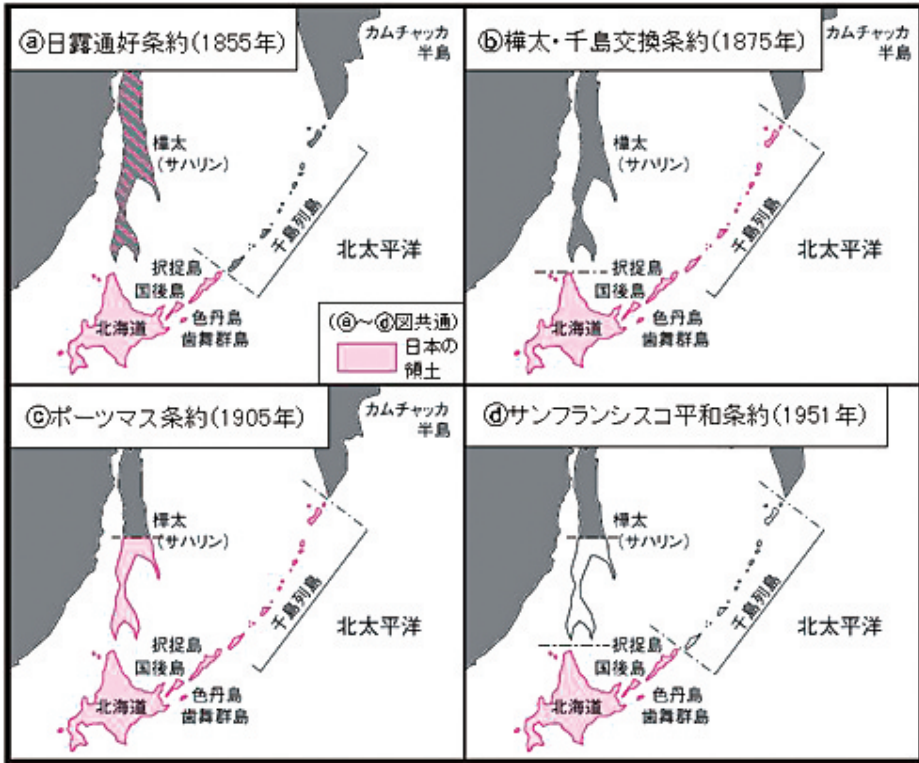
中学校

北方領土ワークシート⑤

年 組 番 氏名 解答

○北方領土の歴史を知ろう

1 以下の地図をみて、それぞれの時代の日本の領域を赤色で塗りましょう。



☆各年で北方四島は日本領ですか。
日本領ならば「○」、他国領ならば「×」を記入しよう。

- ① 1855年 「○」
- ② 1875年 「○」
- ③ 1905年 「○」
- ④ 1951年 「○」
- ⑤ 現在の地図帳 「○」

江戸時代 … 1644年 「正保御国絵図」が完成。作成の元となった、松前藩が幕府に献上した自藩領地図には、「くなしり」「えとほろ」など39の島々が、名前を付して描かれている。

18世紀末 最上徳内や近藤重蔵が北方領土地域を探検する

19世紀初 間宮林蔵が間宮海峡を発見する

明治時代 … 1855年 日露通好条約で北方四島が日本領であることを確認

1875年 樺太千島交換条約で択捉島以北の島々も日本領となる

戦後 … 1951年 サンフランシスコ平和条約

今日の作業をして気づいたことを書こう！