

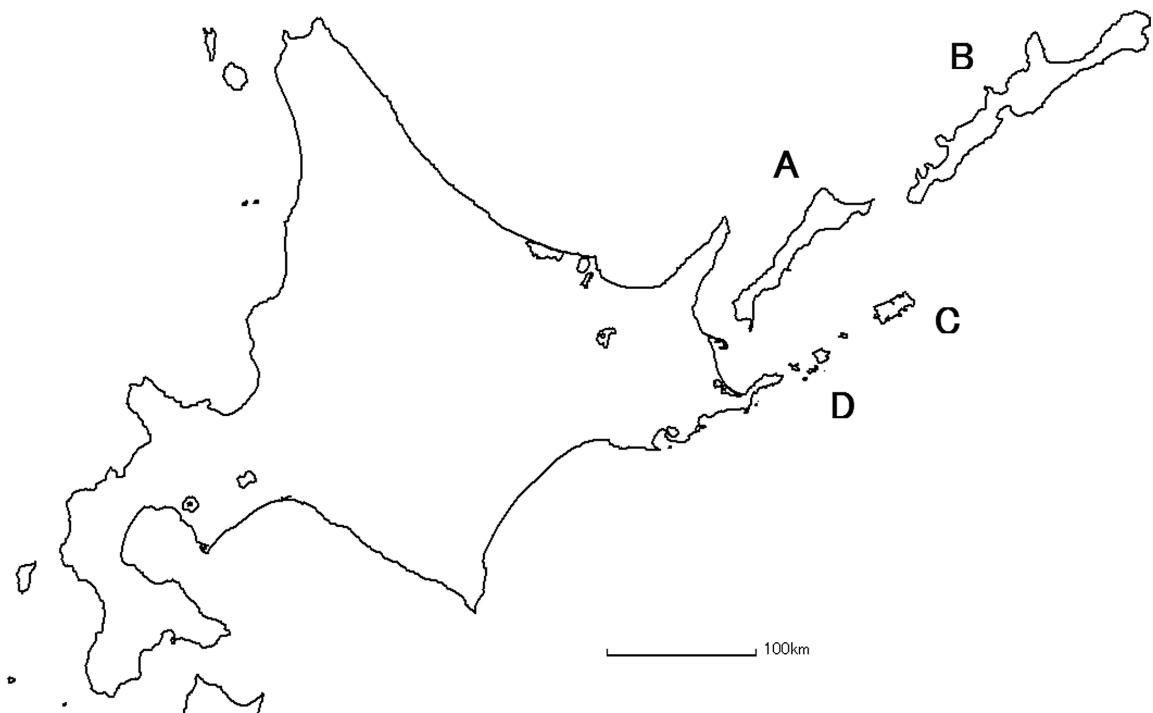
北方領土ワークシート①

小学校

年 組 番 氏名

1 地図帳や資料を見て、ロシア連邦政府に対して返還を求めている、わが国固有の領土である北方領土を調べてみよう。

(1) 略地図中のA～Dにあてはまる地名を、下の語群から選び の中に書きなさい。



A 島

B 島

C 島

D 群島

語群 — えとろふ 択捉 くなしり 国後 はぼまい 歯舞 しこたん 色丹

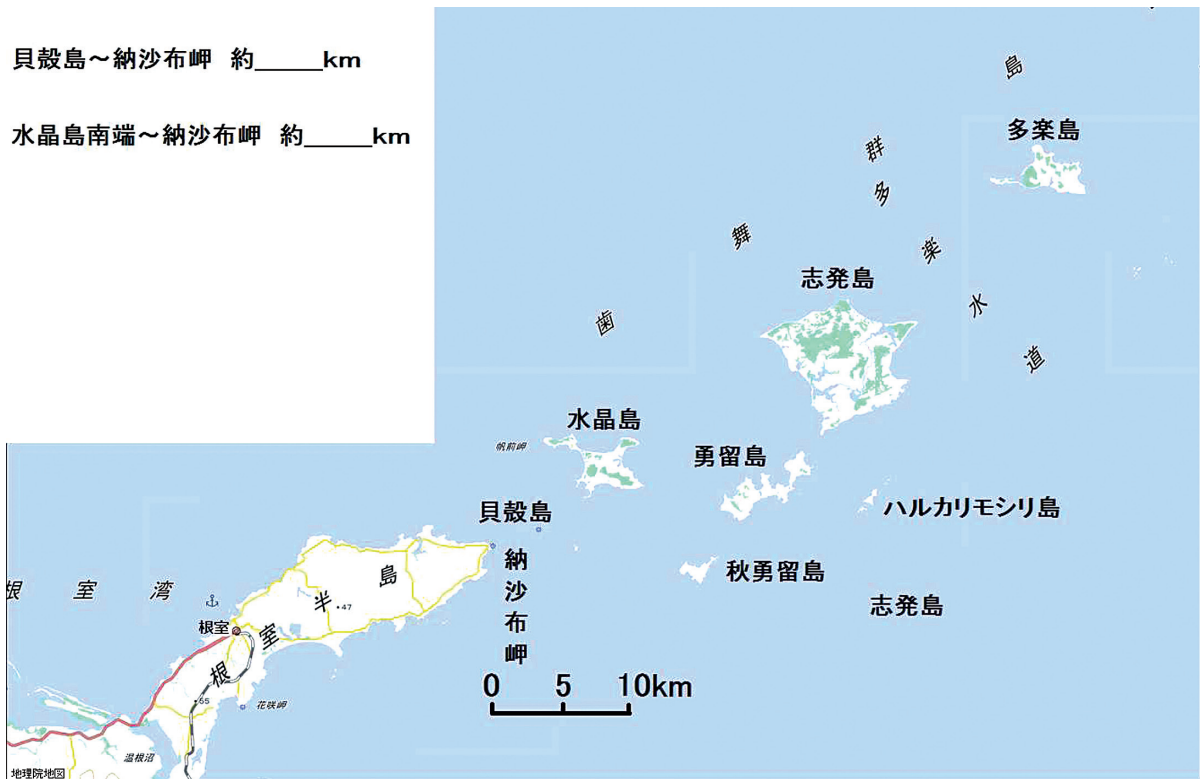
(2) わが国固有の領土である北方領土の島々の名前は、アイヌ語に由来していると言
 われています。関連することがらを線で結びなさい。

- | | | |
|---------------------------------------|---|--------|
| エトゥ・ヲロ・プ (岬の・ある・所) | ● | ● 歯舞群島 |
| クンネ・シリ (黒い・島→黒い島)
キナ・シリ (草の・島→草の島) | ● | ● 色丹島 |
| シ・コタン (大きな村) | ● | ● 択捉島 |
| ハ・アプ・オマ・イ
(流水が退くと小島がそこにある所) | ● | ● 国後島 |

(3) 北方領土の中でも歯舞群島は、最も日本本土に近い島々です。地図中の水晶島の
 南端及び貝殻島と納沙布岬との間の、およその距離を測ってみよう。

貝殻島～納沙布岬 約 _____ km

水晶島南端～納沙布岬 約 _____ km

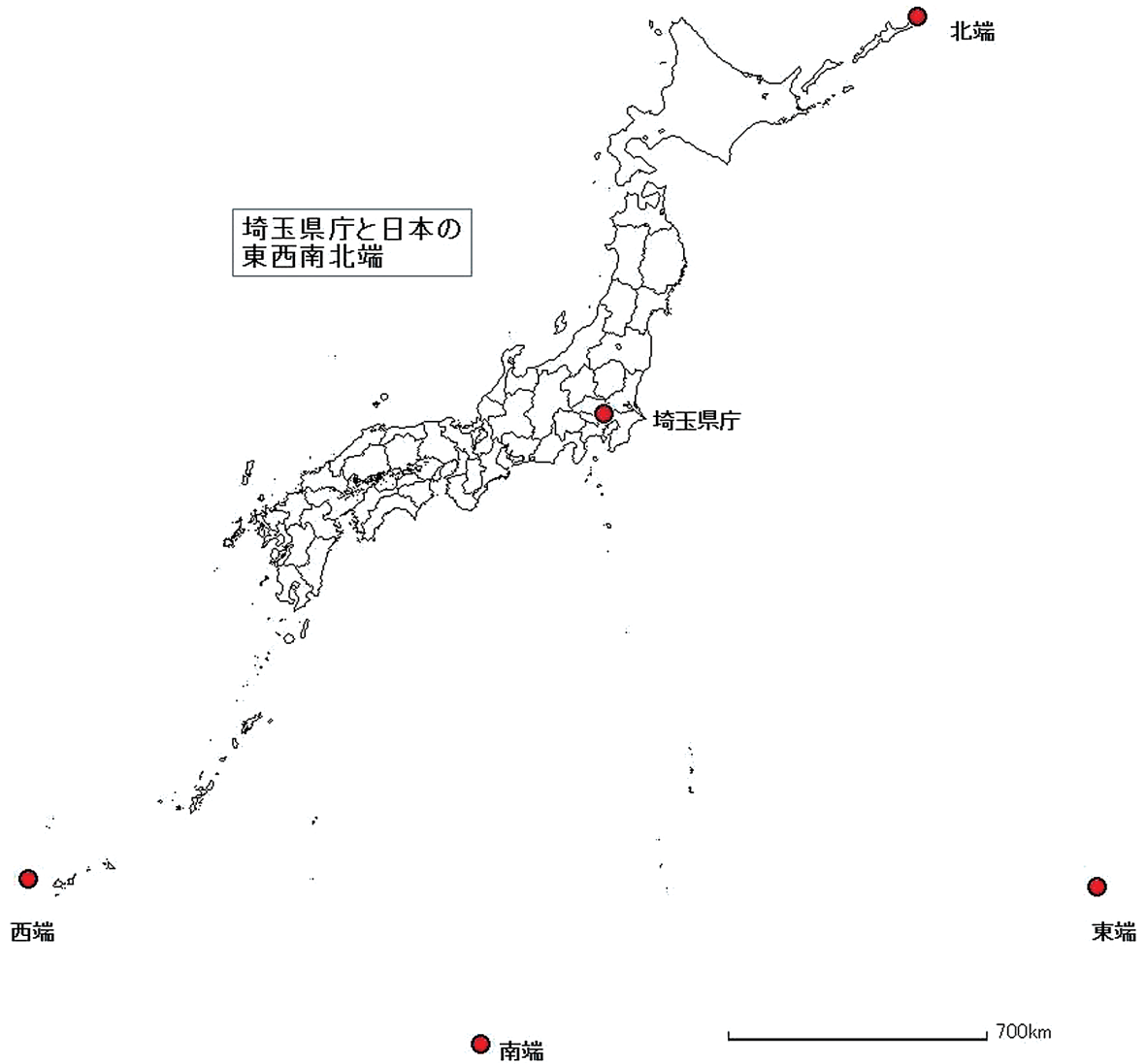


北方領土ワークシート②

小学校

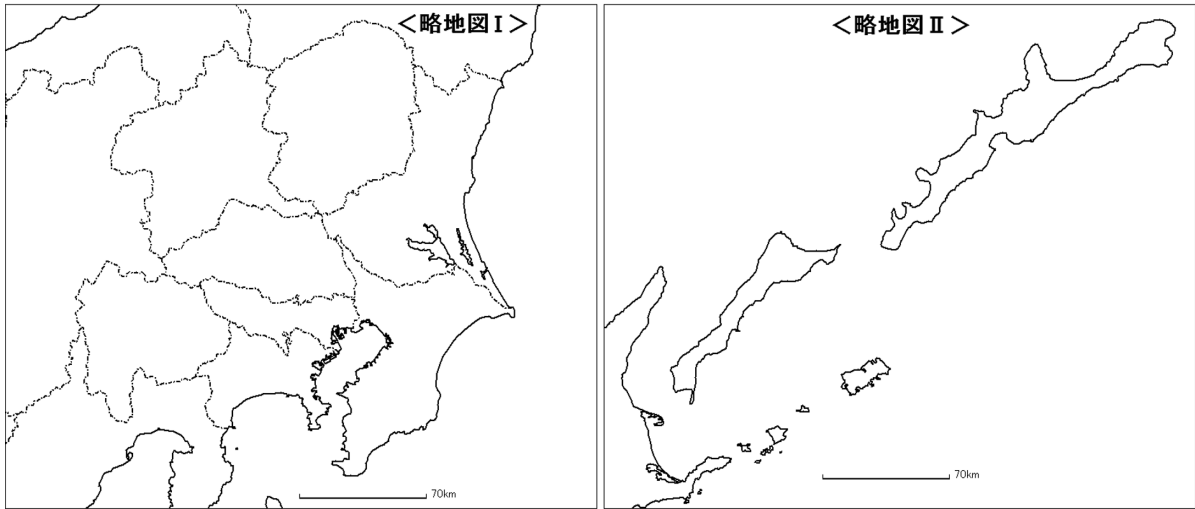
年 組 番 氏名

- 1 略地図をもとに、埼玉県庁と日本の東西南北端までの距離を、コンパスを使って比べ、近い順に番号を付けなさい。



	西端（与那国島）	南端（沖ノ鳥島）	東端（南鳥島）	北端（択捉島）
順位				

2 略地図Ⅰと略地図Ⅱ及び表1を参考にして、関東地方の各都県と北方領土の島々の広さを比べてみよう。



(1) 地図帳を見て、関東地方の各都県の面積を調べ、北方領土の合計面積より大きい都県に○、小さい都県に△を書きなさい。

都 県	面 積	比較 (○、△)
茨 城	km ²	
栃 木	km ²	
群 馬	km ²	
埼 玉	km ²	
千 葉	km ²	
東 京	km ²	
神奈川	km ²	

表1 北方領土の島々の面積

島 名	面 積
歯舞群島	9 5 km ²
色丹島	2 5 1 km ²
国後島	1, 4 9 0 km ²
択捉島	3, 1 6 8 km ²
合 計	5, 0 0 3 km ²

(2) あなたの町と北方領土の島々を比べてみよう。

市町村名	
面 積	km ²